




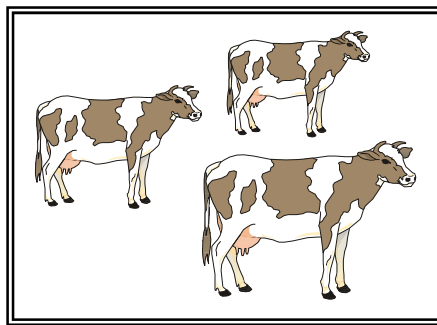

Състезание „Аз и числата”

I клас

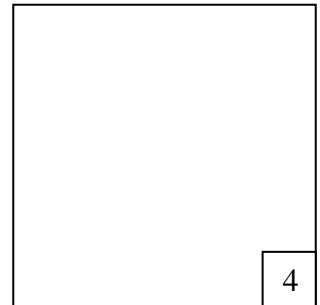
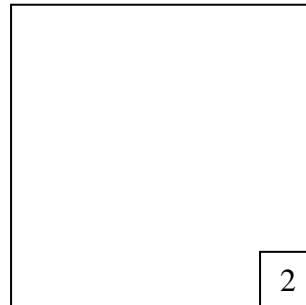
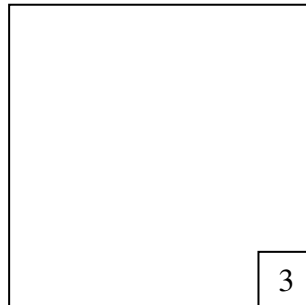
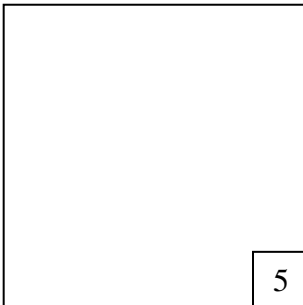
Училище: _____ клас: _____

Име, презиме, фамилия: _____

1. Сложи знак **V** под картинката с три животни:



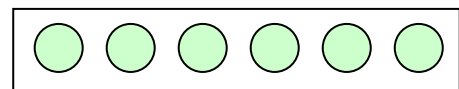
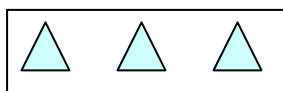
2. Нарисувайте в празното поле съответния брой кръгчета.



3. Свържи.

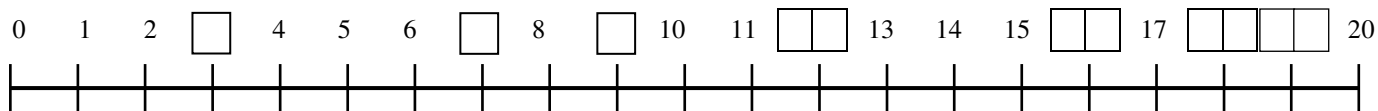
6

5



3

4. Запиши пропуснатите числа.



5. Оцвети 5 ябълки в зелен цвят и 2 ябълки в жълт цвят.



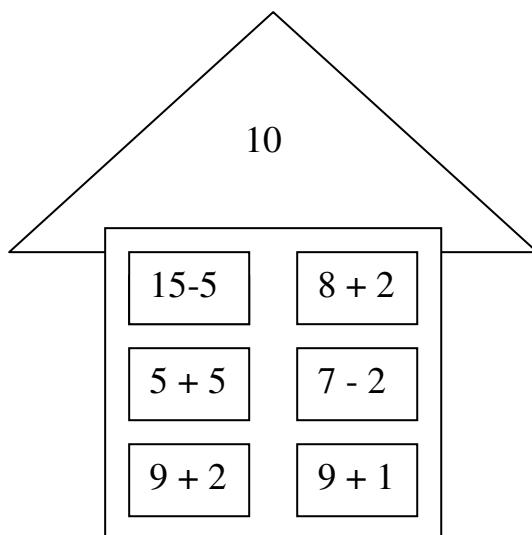
Колко са неоцветените ябълки? Запиши:

6. Огради само числата.

	8		11	С
А		4	М	9
	В		6	Л
	2			Ч

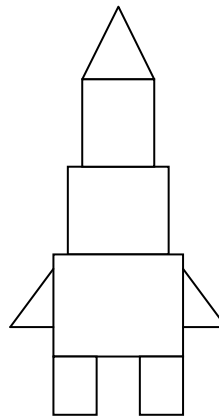
Кое от оградените числа е най-голямото? Запиши го:

7. Зачертай излишните изрази.



8. Колко са фигурите на ракетата?

Триъгълници
Правоъгълници



9. Свържи така, че да е вярно:

6 + 6 8 4 + 3

2 + 8 10

12 10 + 1 11

7 10 - 2

10. С цифрите 0, 1 и 2 напиши три двуцифрени числа до 20.

11. Постави въпрос към задачата и я реши:

На разходка в гората излезли 12 деца. Момчетата били 7.

_____?

12. Йоан имал 20 лева. Купил си топка за 5 лв., книга – с 3 лв. по-скъпа от топката. Колко лева му останали?
